


**Bài tập số 15: Quan sát và phán đoán hình điền vào ô dấu ?**




**Bài tập số 16: Quan sát hình và thực hiện phép tính**



# ADDITION FOR KIDS

 = **1**     = **2**     = **3**     = **4**

 +  =

 +  =


 +  =

 +  =

**Bài tập số 17: Quan sát và điền số còn thiếu vào hình**



## Write missing numbers



**Bài tập số 18: Quan sát, tính toán và tìm giá trị của các đồ vật trong hình**

## Counting Game

$$\text{🍦} - 3 = 4$$

$$10 - \text{👒} = 5$$

$$\text{🍷} - 6 = 9$$

$$14 - \text{🌿} = 6$$

$$\text{⚓} - 4 = 8$$

$$\text{🍦} = \square$$

$$\text{👒} = \square$$

$$\text{🍷} = \square$$

$$\text{🌿} = \square$$

$$\text{⚓} = \square$$

**Bài tập số 19: Đếm số lượng lá cây trong từng ô và khoanh tròn vào số tương ứng**

**How Many?**

	4	3	1	2
	7	8	6	5
	12	10	11	9
	15	16	13	14

### **ĐÁP ÁN**

**Bài tập số 15: Quan sát và phán đoán hình điền vào ô dấu ?**

- Con cáo - Con bò

**Bài tập số 16: Quan sát hình và thực hiện phép tính**

- $1 + 2 = 3$
- $4 + 3 = 7$
- $1 + 1 = 2$
- $2 + 4 = 6$

**Bài tập số 17: Quan sát và điền số còn thiếu vào hình**

- 1 - 2 - 3 - 4 - 5 - 6 - 7 - 8 - 9 - 10 - 11 - 12

**Bài tập số 18: Quan sát, tính toán và tìm giá trị của các đồ vật trong hình**

- Cây kem = 7
- Mũ = 5
- Ly nước = 15
- Chong chóng = 8

- *Mỏ neo = 12*

***Bài tập số 19: Đếm số lượng lá cây trong từng ô và khoanh tròn vào số tương ứng***

- *3 - 6 - 11 - 15*